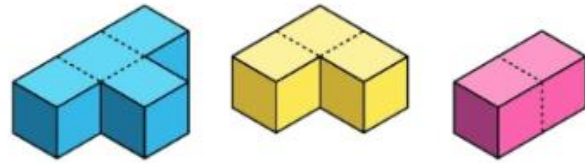


MİYASE DURMUŞ TANIŞ ANADOLU İMAM HATİP LİSESİ ÖDÜLLÜ HAFTALIK BİLGİ YARIŞMASI

MATEMATİK



Birim küplerden oluşan aşağıdaki mavi, sarı ve pembe renkli üç yapboz parçası, şekilde bulunan masanın üzerindeki 3 x 3 boyutlarında birim karelerin oluşturduğu zemine, zeminin tamamını kaplayacak biçimde yerleştirilecektir.



Buna göre bu yerleştirme işlemi kaç farklı şekilde yapılabilir?

İ.H.L. MESLEK DERSLERİ

Huruf-u Mukatta nedir? Huruf-u Mukatta ile başlayan Medeni süreler hangileridir?

EDEBİYAT

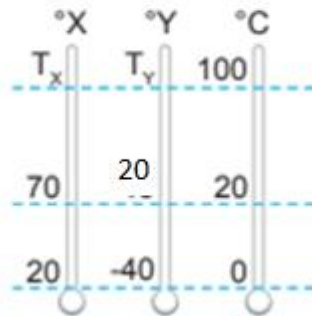
Ben, sisi zihnin bazı hâllerine benzetirim(1). Sis içindeyken sanki başka bir dünyada, başka bir nizam içinde oynayan(2) muhayyilem, beni daima şaşırtır. Kimi zaman temel karakterler üzerinde kalıp ayrıntılardan(3) uzaklaşmanın mutluluğunu yaşıyorum. Kimi zaman da zihnim ayrıntılara dalıp çevreyi(4) kolaçan etmeye başlar. Birkaç gündür İstanbul'un üstünü bütünüyle örten sis de zihnim gibi oyunlar oynuyor ve görülen, işitilen(5) her şeyi farklı bir şekle sokuyor.

Bu parçadaki altı çizili sözcüklerin hangisinde ünlü düşmesi yoktur?

A) I B) II C) III D) IV E) V

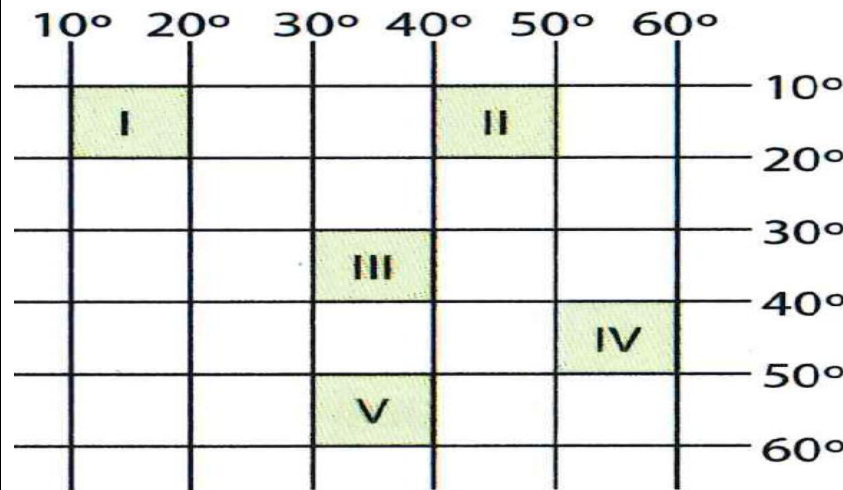
FİZİK

X, Y ve Celcius termometrelerinin bir sıcaklığa ait gösterdiği değerler şekilde gibidir.



Buna göre, X ve Y termometrelerinin suyun kaynama noktası için gösterdiği değerlerin oranı $\frac{T_x}{T_y}$ kaçtır?

COĞRAFYA



Yukarıda paralel ve meridyen dereceleri verilen taralı alanlardan hangisinin izdüşüm alanı daha küçüktür?

TARİH

Türk tarihinde İslamiyet' i kabul eden ilk Türk boyu hangisidir?

(22-26 NİSAN)